


ΕΡΓΑΣΙΑ

ΟΝΟΜΑ.....


*Σημείωσε σε κάθε ρολόι την ώρα που γράφει*

5 και τέταρτο




Η ώρα είναι

7 και 20



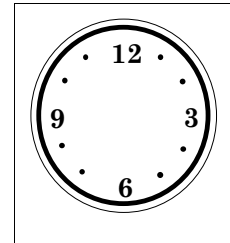
Η ώρα είναι

6 και 30




Η ώρα είναι

8 : 00




Η ώρα είναι

12 και 25




Η ώρα είναι

5 και 35




Η ώρα είναι

3 και 20




Η ώρα είναι

2 και 20




Η ώρα είναι

11 παρά 20




Η ώρα είναι

2 παρά 5



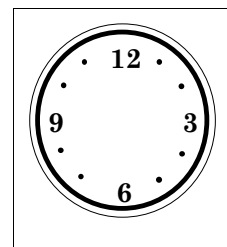
Η ώρα είναι

3 παρά τέταρτο



Η ώρα είναι

4 : 00



Η ώρα είναι